

## Cenário Problema da Atividade de Avaliação em Grupo

Você tem um produto ou serviço que deseja oferecer ao mercado, porém não tem capital para o empreendimento. **Utilizando os dados apresentados nos gráficos do IBGE** elabore um texto pedindo financiamento para seu futuro negócio. O texto deve convencer o investidor que seu empreendimento é viável, lucrativo ou essencial para a sociedade que os gráficos descrevem. Observe que a década de 1950 é ponto de mudança dos gráficos. Uma explicação para esse fenômeno é processo de industrialização do Brasil desencadeado durante o governo JK. Tal processo de industrialização gerou a transferência de população do campo para a cidade. Nas cidades a oferta de serviços públicos, como saúde e educação, fez com que a qualidade de vida fosse positivamente alterada como comprovam os dados do IBGE.

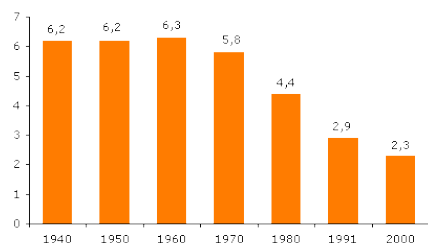
**Máximo 5 (cinco) alunos por grupo.**

**Folha de resposta em anexo, nela os nomes dos membros dos grupos devem ser registrados em ordem alfabética.**

### Fecundidade

Fecundidade da mulher brasileira (Nº médio de filhos que uma mulher teria ao final de sua idade reprodutiva). Em 1970 a mulher brasileira tinha, em média, 5,8 filhos. Trinta anos depois, esta média era de 2,3 filhos.

Taxa de fecundidade no Brasil - 1940/2000



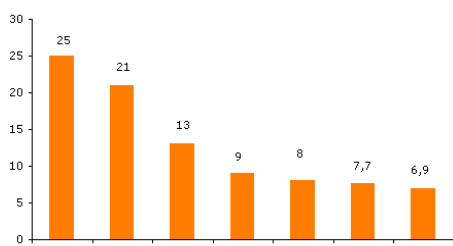
Fonte: Censo Demográfico 2000, Fecundidade e Mortalidade Infantil, Resultados Preliminares da Amostra. IBGE, 2002.

Em 2000, com exceção da Região Norte, as demais Regiões apresentaram taxas de fecundidade próximas à taxa média nacional (2,3). A Região Sudeste apresentou a menor taxa de fecundidade: 2,2 filhos por mulher.

### Mortalidade

Mortalidade total (Nº de pessoas que morrem por 1000 habitantes durante 1 ano). A taxa de mortalidade total no Brasil apresentou um grande declínio de 1950 a 1970, e desde então vem caindo em pequenas proporções.

Taxa de mortalidade no Brasil - 1940/1999



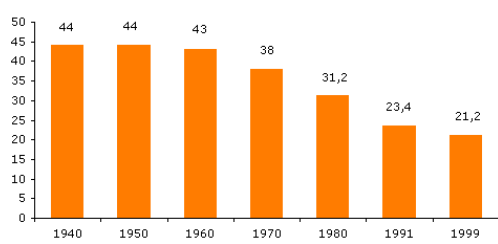
Fonte: IBGE

Mortalidade infantil (Crianças menores de 1 ano de idade que morrem por 1000 nascidos vivos durante o período de 1 ano)

### Natalidade

(Nº de pessoas que nascem por 1000 habitantes durante 1 ano). Desde a década de 70 vem ocorrendo uma redução na taxa de natalidade no Brasil. Veja o gráfico abaixo.

Taxa de natalidade Brasil - 1940/1999



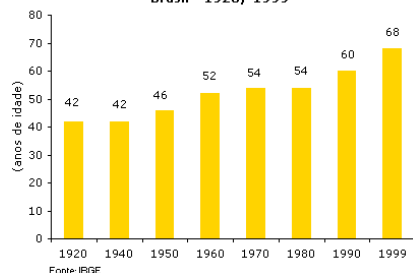
Fonte: IBGE

### Esperança de Vida

(Quantos anos, em média, espera-se que viva um recém-nascido)

Atualmente, a esperança de vida ao nascer do brasileiro é de 68 anos. Mas nem sempre foi assim...

Esperança de vida ao nascer Brasil - 1920/1999



Fonte: IBGE

O total de anos que, em média, os homens esperam viver não é o mesmo total de anos que em média a mulher espera viver: a esperança de vida para os homens é de 65 anos e para mulheres é de 72 anos.

Turma: \_\_\_\_\_ Data: \_\_\_\_\_

**Nome dos membros do grupo em ordem alfabética. Máximo 5 alunos por grupo.**

Nome: \_\_\_\_\_ R.A.: \_\_\_\_\_

Nome: \_\_\_\_\_ R.A.: \_\_\_\_\_

Nome: \_\_\_\_\_ R.A.: \_\_\_\_\_

Nome: \_\_\_\_\_ R.A.: \_\_\_\_\_

Nome: \_\_\_\_\_ R.A.: \_\_\_\_\_

\_\_\_\_\_

\_\_\_\_\_

\_\_\_\_\_

\_\_\_\_\_

\_\_\_\_\_

\_\_\_\_\_

\_\_\_\_\_

\_\_\_\_\_

\_\_\_\_\_

\_\_\_\_\_

\_\_\_\_\_

\_\_\_\_\_

\_\_\_\_\_

\_\_\_\_\_

\_\_\_\_\_

\_\_\_\_\_

\_\_\_\_\_

\_\_\_\_\_

